



CRMV RJ

Conselho Regional de Medicina Veterinária
do Estado do Rio de Janeiro

NÍVEL MÉDIO COMPLETO

Agente de Fiscalização Auxiliar Administrativo

INSTRUÇÕES

- Você receberá do fiscal:
 - Um ***caderno de questões*** contendo 50 questões objetivas de múltipla escolha.
 - Um ***cartão de respostas*** personalizado.
- Ao ser autorizado o início da prova, verifique, no ***caderno de questões***, se a numeração das questões e a paginação estão corretas.
- Você dispõe de 4 (quatro) horas para fazer essa prova. Faça-a com tranquilidade, mas ***controle o seu tempo***. Esse ***tempo*** inclui a marcação do ***cartão de respostas***.
- **Não** é permitido copiar os assinalamentos feitos no ***cartão de respostas***.
- Você só poderá levar seu ***caderno de questões*** ao término da prova.
- Somente após decorrida uma hora do início da prova, você poderá entregar o ***cartão de respostas*** e retirar-se da sala de prova.
- Os três últimos candidatos de cada sala só poderão ser liberados juntos.
- Se você precisar de algum esclarecimento, solicite a presença do ***responsável pelo local***.

2006

LÍNGUA PORTUGUESA

TEXTO – A LIBERTAÇÃO QUE ASSASSINAVA

Augusto Nunes – Jornal do Brasil, 18-11-2006

Brasileiros informados apenas por livros escolares aprendem que a escravidão inscreveu o homem cordial entre os campeões da mais hedionda forma de comércio: a compra e venda de gente. Isso é correto.

Aprendem também que as viagens nos porões impunha sofrimentos inverossímeis a quem já perdera o lar, a família, a pátria e a individualidade. Isso é igualmente correto.

Aprendem, enfim, que o apresamento de um navio negreiro por embarcações da Marinha Britânica, transformada em generosa polícia das águas por ordem de Sua Majestade, significava a restituição aos escravos do direito à liberdade, à vida e ao sonho.

Isso é um equívoco, demonstra o relato do pastor Pascoe Hill. Trata-se da afirmação de um pavoroso paradoxo para incontáveis cativos, a libertação precipitava a morte.

Em abril de 1843, o reverendo voltava do Rio para Londres quando o destino o surpreendeu com uma experiência singularíssima. Numa incursão fluvial por Moçambique, a fragata *Cleópatra* interceptou o negreiro *Progresso*, de bandeira brasileira.

Hill juntou-se, como intérprete e homem de Deus, aos marinheiros ingleses incumbidos de render a tripulação capturada e conduzir o navio à cidade do Cabo. Seriam 50 dias de horror.

Enquanto quebravam grilhões e correntes que martirizavam 447 africanos escravizados, os libertadores ouviram o uivo dos resgatados do inferno, o grito dos vingados, o choro dos socorridos na 25ª. hora. Nos 50 dias seguintes, ouviriam o uivo dos agonizantes, o grito dos traídos, o choro dos resignados. Durante a viagem, 163 corpos foram jogados ao mar. Outros sucumbiriam já no porto supostamente seguro.

Tecnicamente, nenhum morreu de morte matada. Só de morte morrida. Mas a verdade é que foram vítimas do despreparo dos libertadores para lidar com os libertados. As tripulações negreiras sabiam administrar a desgraça, sabiam como tratar a carga humana. Impiedosos e de alma calejada, sabiam que perder um corpo era perder dinheiro. Sabiam chegar às praias do Brasil com perdas inferiores a 10%.

Sobravam água e alimentos, distribuídos com astúcia e critério. Preferências tribais influenciavam a dieta. Não se comia demais nem de menos. Havia até médico a bordo. Os negreiros eram profissionais.

Na primeira noite, diante da tempestade iminente, os ingleses devolveram ao porão os libertos que dormiam no convés. Fechado novamente o tombadilho, o pânico assumiu o leme. Morreram 54. Como os corpos, também seus nomes desapareceram no mar.

1 - “A libertação que assassinava”; o texto se justifica porque:

- (A) os portugueses atiravam os negros ao mar quando se viam perseguidos;
- (B) os escravos adoeciam ao chegar ao Brasil;
- (C) os ingleses não lidavam adequadamente com os escravos libertos;
- (D) os escravos libertos morriam de saudade da pátria e da família;
- (E) após a libertação, os escravos eram encarcerados de novo nos navios negreiros.

2 - “Brasileiros informados apenas por livros escolares...”; a palavra **apenas**, inserida nesse segmento do texto, informa ao leitor que, segundo o autor do texto:

- (A) os brasileiros deveriam informar-se também por outras fontes de informação;
- (B) os livros escolares brasileiros informam nossa verdade histórica, sem rodeios;
- (C) os livros escolares escondem a parte vergonhosa de nossa história;
- (D) só os livros escolares ensinam nossa história de forma clara e precisa;
- (E) muitos brasileiros só dispõem de livros escolares para sua informação.

3 - Leia as frases abaixo:

- I – “Brasileiros informados apenas POR livros escolares...”;
- II – “...o apresamento de um navio negreiro POR embarcações da Marinha...”;
- III – “...transformada em generosa polícia POR ordem de Sua Majestade...”;
- IV – “Numa incursão fluvial POR Moçambique...”

As frases que apresentam casos em que a preposição POR possui o mesmo valor semântico são:

- (A) I – II;
- (B) II – III;
- (C) III – IV;
- (D) I – III;
- (E) II – IV.

4 - Sobre as frases “Isso é correto” (final do 1º. parágrafo), “Isso é igualmente correto” (final do 2º. parágrafo) e “Isso é um equívoco” (início do 4º. parágrafo), pode-se afirmar que:

- (A) as ocorrências do pronome **isso** se referem ao mesmo antecedente;
- (B) a terceira frase não é fruto da convicção direta do autor do texto;
- (C) a primeira frase afirma algo que contraria o restante do texto;
- (D) as duas primeiras frases afirmam coisas opostas;
- (E) a terceira frase também afirma algo que se mostra correto.

5 - O segmento do texto em que as partes sublinhadas **não** são ligadas a um mesmo elemento anterior é:

- (A) “quem já perdera o lar, a família, a pátria e a individualidade”;
- (B) “...a restituição aos escravos do direito à liberdade, à vida e ao sonho”;
- (C) “...marinheiros ingleses incumbidos de render a tripulação capturada e conduzir o navio à cidade do Cabo”;
- (D) “...os libertadores ouviram o uivo dos resgatados do inferno, o grito dos vingados...”;
- (E) “...ouvirião o uivo dos agonizantes, o grito dos traídos...”.

6 - A alternativa que apresenta um elemento sublinhado, que **não** se refere aos escravos, é:

- (A) “...que martirizavam 447 africanos escravizados”;
- (B) “...impunha sofrimentos inverossímeis a quem já perdera o lar, a família”;
- (C) “...de um pavoroso paradoxo para incontáveis cativos”;
- (D) “...render a tripulação capturada e conduzir o navio à Cidade do Cabo”;
- (E) “...o choro dos socorridos na 25ª. hora”.

7 - No texto, o navio negreiro é apresentado como:

- (A) local em que morria a maior parte dos escravos transportados para o Brasil;
- (B) navio onde os escravos eram bem tratados, pois até médico possuía;
- (C) um meio de transporte de algum conforto para os escravos;
- (D) algo menos pior do que a libertação inglesa;
- (E) meio de transporte ilegal, que os ingleses protegiam.

8 - A alternativa que mostra uma palavra que **não** foi formada por derivação sufixal é:

- (A) libertação – equívoco;
- (B) sofrimentos – individualidade;
- (C) apresamento – marinha;
- (D) restituição – afirmação;
- (E) pavoroso – tenebroso.

9 - Dentro do texto, o segmento que apresenta certa carga irônica é:

- (A) “Isso é igualmente correto”;
- (B) “...a viagem nos porões impunha sofrimentos inverossímeis”;
- (C) “...Marinha Britânica, transformada em generosa polícia das águas...”;
- (D) “Trata-se da afirmação de um pavoroso paradoxo...”;
- (E) “Hill juntou-se, como intérprete e homem de Deus, aos marinheiros ingleses...”.

10 - O **paradoxo** citado no texto é explicado no seguinte segmento:

- (A) “significava a restituição aos escravos do direito à liberdade”;
- (B) “a libertação precipitava a morte”;
- (C) “Seriam 50 dias de horror”;
- (D) “Enquanto quebravam grilhões e correntes...”;
- (E) “Tecnicamente, nenhum morreu de morte matada”.

11 - Os escravos eram tratados como animais nos navios negreiros. A expressão do texto que animaliza os escravos transportados é:

- (A) “o uivo dos resgatados do inferno”;
- (B) “o grito dos vingados”;
- (C) “o choro dos socorridos”;
- (D) “163 corpos foram jogados ao mar”;
- (E) “perder um corpo era perder dinheiro”.

12 - A alternativa que mostra um significado **correto** do vocábulo sublinhado é:

- (A) “o uivo dos agonizantes” = sofrendores;
- (B) “o uivo dos resgatados do inferno” = condenados;
- (C) “as tripulações negreiras” = de raça negra;
- (D) “diante da tempestade iminente” = imensa;
- (E) “experiência singularíssima” = diferente.

13 - “Preferências tribais influenciavam a dieta”; uma outra forma dessa frase que altera o seu sentido original é:

- (A) Influenciavam a dieta preferências tribais;
- (B) Preferências das tribos influenciavam a dieta;
- (C) A dieta era influenciada por preferências tribais;
- (D) A dieta era influenciada por preferências das tribos;
- (E) Estava influenciada por preferências tribais a dieta.

14 - “por ordem de Sua Majestade”; empregou-se **Sua Majestade** por se tratar:

- (A) da rainha da Inglaterra;
- (B) dos reis de Portugal;
- (C) dos reis que então governavam o Brasil;
- (D) dos príncipes herdeiros do Brasil;
- (E) do comandante do navio inglês.

15 - “...marinheiros ingleses incumbidos de **render** a tripulação capturada e conduzir o navio à Cidade do Cabo”. Nesse segmento do texto, o verbo destacado mostra que os marinheiros ingleses:

- (A) iriam tomar as armas dos portugueses;
- (B) fariam com que os inimigos não mais lutassem;
- (C) convenceriam os portugueses a entregar as armas;
- (D) enganariam os inimigos no combate;
- (E) substituiriam os portugueses em seu trabalho.

MATEMÁTICA

16 - Todo mês, Boanerges separa uma certa quantia de seu salário e guarda num grande envelope, embaixo do colchão. Ele começou essa poupança em janeiro de 2005, com uma quantia inicial de R\$330,00, que havia recebido por um trabalho. A partir de fevereiro daquele ano, começou a separar a tal quantia mensal. O plano é ter R\$2200,00 em novembro de 2007, quando juntar a quantia mensal a sua “poupança de colchão”. A quantia mensal que Boanerges põe sob o colchão, em reais, é:

- (A) 50,00;
- (B) 55,00;
- (C) 60,00;
- (D) 65,00;
- (E) 70,00.

17 - Para localizar pontos numa floresta, uma equipe de fiscalização ambiental usa um sistema de coordenadas cartesianas em que cada uma unidade corresponde, na realidade, a uma distância de 500m. No planejamento de uma operação, resolveu-se montar um acampamento base no ponto (2 , 3) do sistema de coordenadas e outro no ponto (6 , 6). A real distância ente as duas bases, em metros, será:

- (A) 1.000;
- (B) 2.000;
- (C) 2.500;
- (D) 3.000;
- (E) 3.500.

18 - Um produto custava uma certa quantia X. Num certo dia, entrou em promoção, e passou a ser vendido com um desconto de 20%. Posteriormente, esse preço promocional foi reajustado em 25% e passou a custar Y. O novo preço Y é, então, em relação ao preço X:

- (A) igual;
- (B) 5% menor;
- (C) 5% maior;
- (D) 2% menor;
- (E) 2% maior.

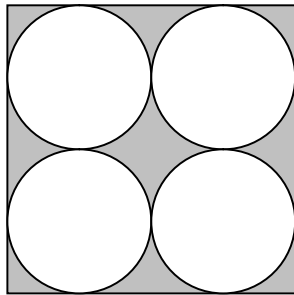
19 - Uma tomada de preços de um certo produto, feita em sete diferentes fornecedores, constatou os seguintes preços, em reais:

fornecedor	preço
1	120,00
2	143,00
3	152,00
4	124,00
5	139,00
6	138,00
7	136,00

O preço médio e o preço mediano apresentados valem, respectivamente, em reais:

- (A) 136 e 136;
- (B) 140 e 138;
- (C) 138 e 142;
- (D) 136 e 138;
- (E) 136 e 124.

20 - Na figura a seguir, o lado do quadrado mede 4 unidades.



A área sombreada, em unidade², é, aproximadamente:

- (A) 3,44;
- (B) 4,32;
- (C) 5,21;
- (D) 5,66;
- (E) 6,12.

21 - O uniforme de uma equipe de futebol de praia é composto por camisa e calção. Quatro uniformes de equipes diferentes são misturados. Não há camisas iguais, nem calções iguais. Se uma pessoa, que desconhece como são os uniformes das equipes, sorteia ao acaso uma das quatro camisas e um dos quatro calções, a probabilidade de que ela escolha um uniforme correto é de:

- (A) 12%;
- (B) 15%;
- (C) 18%;
- (D) 20%;
- (E) 25%.

22 - Se A é o conjunto dos brasileiros, B é o conjunto dos latino-americanos e C é o conjunto dos naturais do estado do Rio de Janeiro então:

- (A) $A \subset B \subset C$;
- (B) $A \subset C \subset B$;
- (C) $C \subset A \subset B$;
- (D) $C \subset B \subset A$;
- (E) $B \subset A \subset C$.

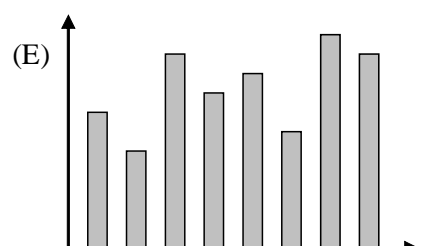
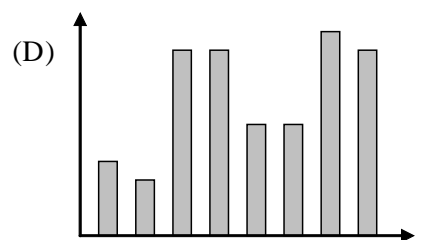
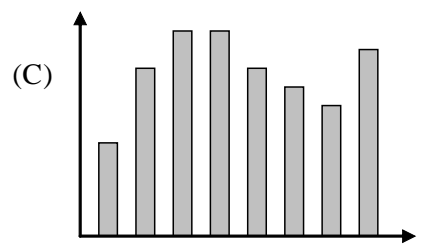
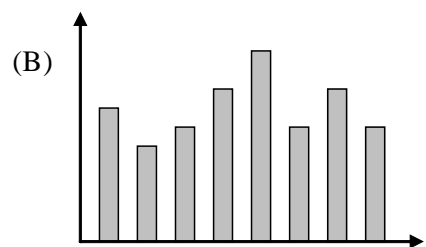
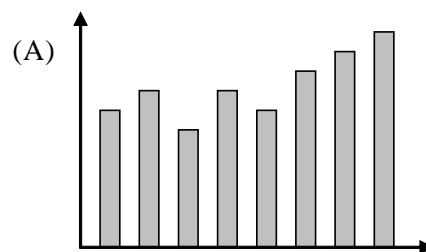
23 - O resultado de $\frac{\log_2 8}{\log_4 16}$ é:

- (A) 0,75;
- (B) 1;
- (C) 1,25;
- (D) 1,5;
- (E) 2.

24 - A tabela a seguir mostra a quantidade de gols marcados por rodada num certo campeonato de futebol:

rodada	nº de gols
1	22
2	15
3	30
4	25
5	28
6	18
7	34
8	30

O gráfico da distribuição de freqüências da quantidade de gols por rodada é melhor representado por:



25 - Um gigabyte representa 2^{30} bytes, ou seja, 1.073.741.824 bytes. Nesse caso, 2^{33} bytes equivalem à seguinte quantidade de gigabytes:

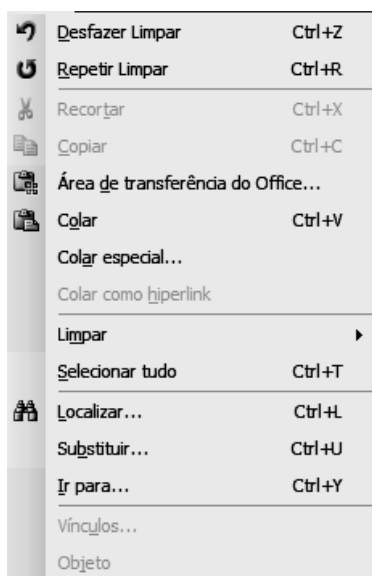
- (A) 1,1;
- (B) 2;
- (C) 4;
- (D) 8;
- (E) 16.

INFORMÁTICA

26 - No ambiente Windows, para visualizar arquivos em formato PDF, é necessário que os usuários tenham instalado em seu computador o seguinte aplicativo:

- (A) WinZip 8.0
- (B) PageMaker 6.5
- (C) OpenOfficeBR
- (D) Dreamweaver 3 BR
- (E) Acrobat Adobe Reader 7

27 - Observe a figura abaixo, gerada no **Word XP BR**.



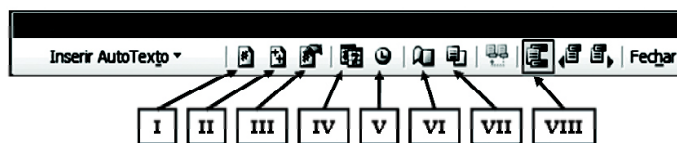
Ela representa uma janela que surge na tela, quando se pressiona uma opção do menu



A opção do menu escolhida é:

- (A) Ferramentas
- (B) Formatar
- (C) Inserir
- (D) Exibir
- (E) Editar

28 - Observe a figura abaixo, que mostra uma janela de diálogo referente à **Cabeçalho e Rodapé** no **Word XP Br**.




Para inserir número de páginas, inserir data e configurar página devem ser pressionados os ícones identificados, respectivamente, pelos números:

- (A) I, IV e VI;
- (B) I, V e VIII;
- (C) II, V e III;
- (D) II, IV e VI;
- (E) III, IV e VIII.

29 - Um usuário do **Word XP Br** está digitando um texto e ao final deseja submetê-lo ao recurso de **Ortografia e gramática...** Para isso, ele deve posicionar o cursor do mouse no início do texto e pressionar a tecla:

- (A) F1
- (B) F6
- (C) F7
- (D) F11
- (E) F12

30 - Um usuário do **Word XP Br** digitou um texto. Antes de imprimi-lo, para visualizar a impressão deve pressionar em **Visualizar impressão** no menu **Arquivo** ou, com o ponteiro do mouse, acionar o seguinte ícone:



31 - Observe as figuras abaixo, referentes ao **Word XP BR**.



figura I

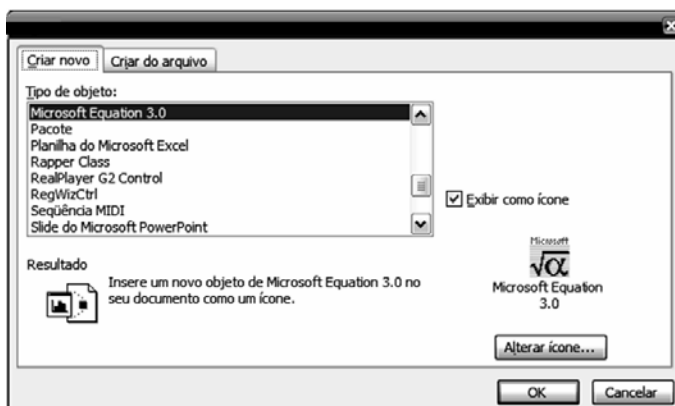


figura II

A *figura I* permite a criação e alteração de equações e é mostrada na tela, a partir da escolha da opção **Microsoft Equation 3.0**, em destaque na *figura II*. Para que a janela da *figura II* apareça na tela do monitor de vídeo, deve-se executar o seguinte caminho:

- (A) Formatar – Objeto
- (B) Inserir – Objeto
- (C) Formatar – Expressão
- (D) Inserir – Equação
- (E) Formatar – Equação

32 - Um usuário do **Windows XP Br** está manipulando arquivos no **Windows Explorer**. Para copiar um arquivo da pasta VETERINARIA para outra denominada DP, deve selecionar o arquivo desejado, executar o comando **Copiar** transferindo-o para a **Área de Transferência** e, em seguida, já na pasta DP executar o comando **Colar**.

Esses comandos são executados de forma alternativa, respectivamente, por meio dos seguintes atalhos de teclado:

- (A) <Ctrl> + C e <Ctrl> + V
- (B) <Ctrl> + V e <Ctrl> + X
- (C) <Ctrl> + X e <Ctrl> + Z
- (D) <Ctrl> + Z e <Ctrl> + P
- (E) <Ctrl> + P e <Ctrl> + C

33 - Analise o quadro abaixo, referente a conceitos sobre Internet.

NÚMERO	TERMINOLOGIA	DESCRIÇÃO
I	SITE	provedor de acesso no ambiente Web, que disponibiliza informações em formato gráfico e não textual, sobre pessoa física ou jurídica.
II	SITE	lugar no ambiente Web, podendo conter texto, fotos, animações gráficas, sons e vídeos, em formato de páginas, de uma empresa ou de uma pessoa.
III	URL	significa <i>Universal Resource Location</i> , e constitui um browser de navegação para a Web, oferecendo os recursos necessários para que os usuários realizem <i>download</i> de arquivos a partir da Internet.
IV	URL	significa <i>Uniform Resource Location</i> , e é um endereço virtual que indica exatamente onde as informações da empresa ou da pessoa se encontram, tendo o formato http://www.crmvrj.com.br , por exemplo.
V	LINKs	pontos de conexão entre diferentes partes de texto de um mesmo website ou entre diferentes websites
VI	LINKs	enlaces de radiocomunicação que implementam as topologias de redes para acesso à Internet em ambientes <i>wireless</i>






No que diz respeito a TERMINOLOGIA e DESCRIÇÃO, estão em conformidade as alternativas de números:

- (A) I, III e VI
- (B) I, IV e V
- (C) II, IV e V
- (D) II, III e V
- (E) II, IV e VI

34 - Um funcionário do Conselho Regional de Medicina Veterinária do Estado do Rio de Janeiro está acessando o site do Conselho utilizando o browser Internet Explorer 6, versão em português.

Observando que foi carregado na tela o conteúdo armazenado na cache, esse funcionário deseja atualizá-lo. Para isso, deve pressionar um determinado ícone do browser com o ponteiro do mouse ou pressionar uma tecla específica.

O ícone e a tecla são, respectivamente:

- (A)  e F5
- (B)  e F8
- (C)  e F5
- (D)  e F8
- (E)  e F5

35 - As redes de microcomputadores que operam com base nos sistemas operacionais Microsoft, empregam simbologia típica para fins de padronização de pastas mostradas no Windows Explorer.

Sob esse enfoque, uma pasta compartilhada em rede está indicada no ícone:



LEGISLAÇÃO ESPECÍFICA

36 - É de competência privativa do médico veterinário o exercício das seguintes atividades e funções, **exceto**:

- (A) a prática da clínica veterinária em todas as suas modalidades;
- (B) o ensino, a direção, o controle e a orientação dos serviços de inseminação artificial;
- (C) a inspeção e a fiscalização, sob o ponto de vista sanitário e tecnológico das fábricas que empregam produtos de origem animal;
- (D) o planejamento e a execução da defesa sanitária animal;
- (E) a defesa da fauna, especialmente das espécies animais silvestres ameaçadas de extinção, bem como de seus produtos.

37 - Sobre as atribuições dos CRMVs avalie as afirmativas a seguir:

- I- Fiscalizar o exercício profissional dos médicos veterinários, punindo os infratores.
- II- Expedir as carteiras profissionais dos médicos veterinários que residam e atuem na sua jurisdição.
- III- Julgar, em última instância, as questões e os recursos que surgirem do exercício da medicina veterinária.

Estão corretas as afirmativas:

- (A) I, apenas;
- (B) II, apenas;
- (C) III, apenas;
- (D) I e II, apenas;
- (E) II e III, apenas.

38 - O CFMV e os CRMVs são dotados de personalidade jurídica de direito público e, em seu conjunto, atuam como:

- (A) entes estatais;
- (B) empresas privadas;
- (C) entidades autárquicas;
- (D) empresas de economia mista;
- (E) corporações público-privadas.

39 - De acordo com a Resolução nº 591, de 26 de junho de 1992, a Diretoria Executiva do Conselho Regional de Medicina Veterinária (CRMV) é composta pelo Presidente, pelo Vice-Presidente, pelo Secretário-Geral e pelo Tesoureiro. A Resolução descreve ainda as competências de cada membro da Diretoria Executiva. Pela Resolução, o Relatório Anual do CRMV deve ser elaborado pelo:

- (A) Presidente e pelo Vice-Presidente;
- (B) Presidente e pelo Secretário-Geral;
- (C) Vice-Presidente e pelo Secretário-Geral;
- (D) Vice-Presidente e pelo Tesoureiro;
- (E) Secretário-Geral e pelo Tesoureiro.

40 - Para o funcionamento de um hospital veterinário são dispensáveis:

- (A) os equipamentos de manutenção de vacinas e outros produtos biológicos;
- (B) os equipamentos de secagem e esterilização de materiais;
- (C) os equipamentos de respiração artificial;
- (D) os equipamentos de conservação de animais mortos e restos de tecidos;
- (E) os equipamentos de transportes usados para a consulta e a vacinação de animais.

41 - O Fiscal do CRMV, no exercício de suas atribuições, dentre outras atribuições, verificará:

- I- Se o estabelecimento fiscalizado está regularmente inscrito no Conselho da jurisdição a que pertence.
- II- Se o responsável técnico está regularmente inscrito no CRMV da jurisdição onde se localiza o estabelecimento.
- III- Se o Certificado de Regularidade encontra-se afixado em local visível e de fácil acesso.

Estão corretas as afirmativas:

- (A) I, apenas;
- (B) III, apenas;
- (C) I e II, apenas;
- (D) II e III, apenas;
- (E) I, II e III.

42 - Entre os princípios fundamentais do Código de Ética Profissional do Médico Veterinário temos, **exceto**:

- (A) o exercício da profissão com o máximo de zelo e o melhor da sua capacidade;
- (B) a denúncia de qualquer forma de agressão aos animais e ao seu ambiente às autoridades competentes;
- (C) a divulgação de informações sobre assuntos profissionais sem comprovação científica;
- (D) a adoção de procedimentos que evitem o sofrimento e a dor nos animais;
- (E) o empenho para melhorar as condições de saúde animal e os serviços médicos veterinários.

43 - Entre os deveres do médico veterinário temos, **exceto**:

- (A) aprimorar seus conhecimentos e usá-los em benefício dos animais e dos homens;
- (B) participar de pesquisas realizadas com animais sem observar os procedimentos adequados;
- (C) realizar a eutanásia nos casos devidamente justificados;
- (D) exercer a profissão evitando procedimentos mercantilistas;
- (E) fornecer informações de interesse de saúde pública às autoridades competentes.

44 - Entre os procedimentos relacionados a seguir, apenas um faz parte do código de ética do médico veterinário. Assinale-o:

- (A) praticar atos profissionais que a lei defina como ilícitos;
- (B) prescrever medicamentos que não estejam registrados nos órgãos competentes;
- (C) assinar, sem preenchimento prévio, receitas e atestados.
- (D) evitar os danos ambientais que colocam em risco a saúde dos homens;
- (E) pagar comissão a intermediários com o objetivo de aumentar sua clientela.

45 - Sobre os procedimentos do médico veterinário avalie as afirmativas a seguir:

- I- Deve conhecer a legislação de preservação dos recursos naturais, da biodiversidade e do desenvolvimento sustentável.
- II- Deve respeitar as necessidades fisiológicas dos animais, não atentando contra suas funções vitais.
- III- Deve evitar os danos ambientais que decorrem do lançamento dos resíduos da exploração e da indústria animal que colocam em risco a saúde dos homens.

Estão corretas apenas as afirmativas:

- (A) I;
- (B) II;
- (C) III;
- (D) I e II;
- (E) I, II e III.

46 - De acordo com o decreto 64704, são penas disciplinares aplicáveis pelos Conselhos de Medicina Veterinária, **exceto**:

- (A) advertência pública, em aviso de ampla divulgação;
- (B) censura confidencial, em aviso reservado;
- (C) censura pública, em publicação oficial;
- (D) suspensão do exercício profissional até 3 (três) meses;
- (E) cassação do exercício profissional, "ad referendum" do Conselho Federal de Medicina Veterinária.

47 - Na reunião dos delegados dos Conselhos Regionais realizada para eleger os membros do Conselho Federal de Medicina veterinária (CFMV), cada Conselho Regional tem direito ao seguinte número de delegados:

- (A) 1;
- (B) 2;
- (C) 3;
- (D) 4;
- (E) 5.

48 - Ainda de acordo com o Decreto 64704, os Conselhos de Medicina Veterinária são órgãos de assessoramento superior dos governos da União, dos Estados, dos Municípios, dos Territórios e do Distrito Federal, em assuntos referentes a _____, assim como em matéria direta ou indiretamente relacionada com _____.

As lacunas são corretamente preenchidas respectivamente por:

- (A) ensino e exercício da medicina veterinária / a produção ou a indústria animal;
- (B) exercício pleno da medicina veterinária / a produção animal;
- (C) indústria animal / ensino e pesquisa da medicina veterinária;
- (D) ensino e pesquisa da medicina veterinária / indústria e produção animal;
- (E) pesquisa científica básica da medicina veterinária / o ensino superior da medicina veterinária.

49 - Em relação ao funcionamento do Plenário de cada CRMV, avalie as afirmativas a seguir:

- I - O quorum mínimo para a realização das Sessões, sejam Ordinárias, sejam extraordinárias, é de dois membros da Diretoria-executiva e seis conselheiros.
- II - Iniciada a Ordem do dia, o Presidente submeterá ao Plenário a matéria em pauta, concedendo a palavra, inicialmente, ao Relator, para que este profira seu parecer, fundamentado e conclusivo, também apresentado por escrito.
- III- Durante a leitura do relatório e voto do Conselheiro Relator, o Presidente pode conceder apartes.
- IV- Sobre a matéria em debate, cada conselheiro pode falar durante cinco minutos, prorrogáveis por mais cinco minutos, a critério do Presidente.

Estão corretas apenas as afirmativas:

- (A) I e III;
- (B) II e IV;
- (C) I, II e III;
- (D) I, III e IV;
- (E) II, III e IV.

50 - Estão obrigadas, pelo decreto nº 69.134 - de 27 de agosto de 1971, a registro no Conselho de Medicina Veterinária correspondente à região onde funcionarem, a saber:

- I - As firmas de planejamento e de execução de assistência técnica à pecuária.
- II - Os hospitais, as clínicas e os serviços médico-veterinários.
- III- As demais entidades dedicadas à execução direta dos serviços específicos de Medicina Veterinária previstos na Lei nº 5.517/1968.

Está(ão) correta(s) a(s) afirmativa(s):

- (A) I, apenas;
- (B) I e II, apenas;
- (C) I e III, apenas;
- (D) II e III, apenas;
- (E) I, II e III.