

PROVAS DE PORTUGUÊS, CONHECIMENTOS ESPECÍFICOS, NOÇÕES DE INFORMÁTICA E MATEMÁTICA

Número de questões: 60

Duração: 4 horas

ATENÇÃO: Todas as questões são de múltipla escolha. Cada questão apresenta cinco alternativas para resposta, das quais apenas uma é correta. Preencha, na FOLHA DE RESPOSTAS (folha de leitura óptica), o espaço correspondente à alternativa escolhida, utilizando caneta esferográfica de tinta azul ou preta.

I – PORTUGUÊS

TEXTO I

A dificuldade de criar regimes democráticos em países árabes decorre de fatores históricos e culturais, mas se agrava hoje em dia em razão de dois aspectos. De um lado, existe um estado permanente de beligerância, pela vizinhança com Israel, o que tende a concentrar o poder nas mãos de um líder ou de um grupo. O constante clima de guerra, além do mais, torna prioridade o fortalecimento do Exército, do serviço de inteligência, da polícia secreta, da guarda nacional, instituições que também servem para conter aspirações populares malvistas pelos dirigentes. De outro lado, a comunidade árabe é dividida pela glória e pela desgraça do petróleo. Quem tem senta-se sobre ele. Quem não tem usa sua influência junto aos países ricos em petróleo para garantir investimentos e ajuda externa. Assim, tanto os com-petróleo quanto os sem-petróleo, excessivamente amarrados à dependência do capital externo, tendem a ignorar as demandas internas por maior participação popular.

Veja, 19 de setembro de 2001.

1. O texto I apresenta como tema principal o (a)
 - a) clima de violência que impera nos países árabes.
 - b) dificuldade de implantar a democracia em países árabes.
 - c) divisão dos países árabes pela glória e pela desgraça do petróleo.
 - d) dependência de países árabes ao capital estrangeiro.
 - e) estratégia de manutenção do poder nos países árabes.
2. De acordo com o texto I, é causa de um estado permanente de beligerância nos países árabes o (a)
 - a) concentração do poder nas mãos de um líder ou de um grupo.
 - b) fortalecimento de instituições que servem para conter aspirações populares.
 - c) vizinhança com Israel.
 - d) divisão da comunidade árabe pela glória e pela desgraça do petróleo.
 - e) auto-suficiência dos com-petróleo.
3. A propósito do texto I, afirma-se:
 - I. Os sem-petróleo são mais sensíveis que os com-petróleo aos apelos da população árabe por uma maior participação política.
 - II. A divisão dos países árabes entre os que têm e os que não têm petróleo alimenta-lhes o interesse pela democracia.
 - III. O fato de que uns têm petróleo, e outros não, agrava entre os países árabes a dificuldade de criar regimes democráticos.

Das afirmações acima, está(ão) correta(s) apenas

- a) I b) II c) III d) I e II e) I e III

4. Considere os fragmentos:

- I. “...decorre de fatores históricos e culturais, mas se agrava hoje em dia em razão de dois aspectos.”
- II. “....o que tende a concentrar o poder nas mãos de um líder ou de um grupo.”
- III. “Quem não tem usa sua influência junto aos países ricos em petróleo para garantir investimentos e ajuda externa.”

Os termos neles grifados têm, respectivamente, valor

- | | |
|--|--|
| a) opositivo, aditivo e modal. | d) opositivo, alternativo e final. |
| b) concessivo, alternativo e locativo. | e) adversativo, alternativo e consecutivo. |
| c) adversativo, explicativo e final. | |

5. A construção “Quem tem senta-se sobre ele.” sugere, nos países que possuem o petróleo, uma atitude de

- | | |
|-----------------------------|----------------------------|
| a) ganância e insatisfação. | d) orgulho e generosidade. |
| b) tolerância e resignação. | e) humildade e temor. |
| c) vigilância e comodismo. | |

6. Apresentam **hiato** todos os vocábulo da alternativa

- | | |
|--------------------------------|--|
| a) criar/ países/ prioridade. | d) instituições/ prioridade/ aspirações. |
| b) criar/ razão/ inteligência. | e) inteligência/ petróleo/ beligerância. |
| c) países/ mãos/ vizinhança. | |

7. No trecho: “De um lado, existe um estado permanente de beligerância, pela vizinhança com Israel, o que tende a concentrar o poder nas mãos de um líder ou de um grupo.”, os termos grifados, quanto à acentuação tônica, classificam-se respectivamente como

- a) oxítono, paroxítono e monossílaboônico.
- b) proparoxítono, oxítono e paroxítono.
- c) proparoxítono, paroxítono e monossílaboônico.
- d) paroxítono, oxítono e oxítono.
- e) paroxítono, oxítono e monossílaboônico.

8. No fragmento: “A dificuldade de criar regimes democráticos em países árabes decorre de fatores históricos e culturais, mas se agrava hoje em dia em razão de dois aspectos.”, pertencem à **mesma classe gramatical** as palavras

- | | | |
|------------|------------------------|--------------------------|
| a) de/mas. | c) hoje/dois. | e) democráticos/fatores. |
| b) de/em. | d) dificuldade/árabes. | |

9. Só NÃO ocorre **dígrafo** nas palavras da alternativa

- | | |
|-------------------------------|---------------------------------|
| a) decorre/glória/vizinhança. | d) decorre/assim/glória. |
| b) assim/garantir/permanente. | e) vizinhança/clima/permanente. |
| c) criar/clima/glória. | |

10. Considere o trecho: “A dificuldade de criar regimes democráticos em países árabes decorre de fatores históricos e culturais, mas se agrava hoje em dia em razão de dois aspectos.”. Segundo a norma culta da língua, outra forma correta de pontuá-lo seria:

- a) “A dificuldade de criar regimes democráticos, em países árabes decorre de fatores históricos e culturais, mas se agrava hoje em dia em razão de dois aspectos.”.
- b) “A dificuldade de criar regimes democráticos em países árabes decorre de fatores históricos e culturais, mas se agrava hoje em dia em razão, de dois aspectos.”.
- c) “A dificuldade de criar regimes democráticos em países árabes decorre, de fatores históricos e culturais, mas se agrava hoje em dia em razão de dois aspectos.”.
- d) “A dificuldade de criar regimes democráticos em países árabes decorre de fatores, históricos e culturais, mas se agrava hoje em dia em razão de dois aspectos.”.
- e) “A dificuldade de criar regimes democráticos, em países árabes, decorre de fatores históricos e culturais, mas se agrava hoje em dia em razão de dois aspectos.”.

TEXTO II

Diz-se habitualmente que uma das desvantagens dos países subdesenvolvidos de hoje é o “efeito de emulação”. Tendem a imitar prematuramente os hábitos de consumo dos países ricos, e com isso desviam para o consumo recursos que deveriam empregar para aumento do capital produtivo. Mas já o professor Wallich lança uma nesga de dúvida sobre essa tese. Talvez a ânsia de adquirir artefatos de luxo – o rádio, a televisão ou o automóvel – provoque um enorme aumento do esforço do trabalhador, despertando-lhe a ambição de apurar o seu treinamento técnico e tornar-se mais eficiente e produtivo, a fim de conseguir dinheiro para acesso ao supérfluo. Donde ser possível que o consumo de bens dispensáveis venha a facilitar a absorção de tecnologia, e, por via indireta, provocar aumento de produtividade e acelerar a formação de capital.

Roberto Campos, *A técnica e o riso*.

11. Segundo o texto II, o *efeito de emulação* nos países subdesenvolvidos

- a) tende a limitar a aquisição dos bens de consumo.
- b) compromete, a longo prazo, o aumento do capital produtivo.
- c) constitui-se numa imitação prematura que em nada favorece a economia.
- d) talvez concorra para melhorar o desempenho dos trabalhadores.
- e) implica num desprezo pelo supérfluo e, com isso, leva ao aumento do capital produtivo.

12. A propósito do texto II, preencha os parênteses com V (**verdadeiro**) ou F (**falso**):

- () O professor Wallich condena, nos países subdesenvolvidos, o desvio para o consumo de recursos que deveriam ser usados para aumentar o capital produtivo.
- () A imitação dos hábitos dos países ricos, por parte dos países subdesenvolvidos, seria prematura por estes últimos visarem ao aumento do capital produtivo em detrimento do consumo.
- () Eficiência e produtividade só ocorrem quando os países subdesenvolvidos imitam os hábitos de consumo dos países ricos.
- () Nem sempre a absorção de tecnologia e o aumento da produtividade decorrem apenas da destinação de recursos para o aumento do capital produtivo.

A alternativa correspondente à seqüência correta é:

- a) FV FV b) FF VV c) VFF V d) FFF V e) VF VV

13. Segundo o texto II, os países subdesenvolvidos são **êmulos** dos países ricos, ou seja,

- a) deles desconfiam.
- b) com eles se parecem.
- c) deles se aproximam.
- d) com eles competem.
- e) deles se afastam.

14. Considere o fragmento: “...recursos que deveriam empregar para aumento do capital produtivo.”. Na voz passiva, a construção verbal que substitui corretamente a expressão grifada é:
- a) deveriam ser empregados.
 - b) deveria empregarem-se.
 - c) deveria serem empregados.
 - d) deveria ser empregados.
 - e) dever-se-ia empregarem.
15. O valor semântico do termo grifado classifica-se ERRADAMENTE em
- a) “...e com isso desviam para o consumo recursos...” – direção.
 - b) “...desviam (...) recursos que deveriam empregar para aumento do capital produtivo.” – finalidade.
 - c) “Mas já o professor Wallich lança uma nesga de dúvida sobre essa tese.” – consequência.
 - d) “...despertando-lhe a ambição de (...) tornar-se mais eficiente e produtivo...” – intensidade.
 - e) “Donde ser possível que o consumo de bens dispensáveis venha a facilitar a absorção de tecnologia...” – conclusão.

II – CONHECIMENTOS ESPECÍFICOS

NOÇÕES DE DIREITO ELEITORAL, CONSTITUCIONAL E ADMINISTRATIVO

16. É INCORRETO afirmar que, das decisões dos Tribunais Regionais Eleitorais, somente caberá recurso quando essas decisões
- a) forem proferidas contra disposição expressa da Constituição ou de lei.
 - b) divergirem da interpretação da lei entre dois ou mais tribunais eleitorais.
 - c) versarem sobre inelegibilidade ou expedição de diploma nas eleições federais, estaduais ou municipais.
 - d) anularem diplomas ou decretarem a perda de mandatos eletivos federais ou estaduais.
 - e) denegarem “*habeas corpus*”, mandado de segurança, “*habeas data*” ou mandado de injunção.
17. A organização e competência dos tribunais, juízes de direito e das juntas eleitorais será definida por
- a) lei complementar.
 - b) resolução do Tribunal Superior Eleitoral.
 - c) resolução do Supremo Tribunal Federal.
 - d) resolução do Senado Federal.
 - e) lei ordinária.
18. De acordo com a Lei 9.504/97, é correto afirmar:
- a) É obrigatório ao partido ou coligação substituir candidato que for considerado inelegível, renunciar ou falecer após o termo final do prazo de registro ou, ainda, tiver seu registro indeferido ou cancelado.
 - b) Juntamente com o pedido de registro de seus candidatos, os partidos e coligações comunicarão à Justiça Eleitoral os valores máximos de gastos que farão por candidatura em cada eleição em que concorrerem.
 - c) As despesas da campanha eleitoral serão realizadas sob responsabilidade dos candidatos e financiadas na forma estabelecida por resolução do Tribunal Superior Eleitoral.
 - d) É facultado aos partidos abrir conta bancária específica para registrar todo o movimento financeiro da campanha.
 - e) Os comitês financeiros serão registrados até dez dias após sua constituição, no Tribunal Superior Eleitoral.

19. É vedado a partido e candidato receberem, direta ou indiretamente, doação em dinheiro ou estimável em dinheiro, inclusive por meio de publicidade de qualquer espécie, procedente de
- a) pessoa física residente no exterior.
 - b) pessoas jurídicas vinculadas à área econômica.
 - c) sociedades anônimas.
 - d) entidade de direito privado que receba, na condição de beneficiária, contribuição compulsória em virtude de disposição legal.
 - e) agências de publicidade.
20. A prestação de contas dos candidatos às eleições majoritárias será feita
- a) na forma estabelecida pelo Tribunal de Contas.
 - b) de acordo com o Edital estabelecido pelos Tribunais Regionais Federais nos respectivos Estados e pelo Tribunal Superior Eleitoral, no caso de eleições para preenchimento de cargos federais.
 - c) na forma disciplinada pela Justiça Eleitoral.
 - d) de acordo com os modelos constantes de resolução expedida pelo Supremo Tribunal Federal, sendo válidos e obrigatórios para todo o território nacional.
 - e) na forma estabelecida pelo Tribunal de Contas, mediante resolução do Senado Federal.
21. O princípio do *Juiz Natural*, previsto nos incisos XXXVII e LIII do art. 5º da Constituição Federal, implica
- I. na vedação da criação de tribunais de exceção.
 - II. no respeito absoluto às regras objetivas de determinação de competência, para que não seja afetada a independência e imparcialidade do órgão julgador.
 - III. que somente os juízes, tribunais e órgãos jurisdicionais, bem como o poder de julgar previsto em outros órgãos, satisfazem este princípio.

Está(ão) correta(s)

- | | | |
|--------------|------------------|----------|
| a) apenas I | c) apenas III | e) todas |
| b) apenas II | d) apenas I e II | |

22. NÃO constitui competência constitucional do tribunal do júri

- | | |
|---|-------------------------------|
| a) o julgamento dos crimes contra a vida. | d) soberania dos veredictos. |
| b) plenitude de defesa. | e) possibilidade de apelação. |
| c) sigilo das votações. | |

23. Os direitos e garantias expressos na Constituição Federal

- a) resumem-se àqueles elencados no art. 5º do texto constitucional.
- b) excluem outros de caráter supra constitucional decorrentes do regime e dos princípios por ela adotados.
- c) excluem outros decorrentes do regime e dos princípios por ela adotados, mesmo que difusamente previstos no texto constitucional.
- d) incluem a existência de outros direitos e garantias individuais, derivada dos tratados internacionais em que a República Federativa do Brasil seja parte.
- e) são privativos de brasileiros natos.

24. Com relação aos direitos e garantias individuais expressos no art. 5º da Constituição Federal, é INCORRETO afirmar:

- a) As entidades associativas, quando expressamente autorizadas, têm legitimidade para representar seus filiados judicial ou extrajudicialmente.
- b) A criação de associações e, na forma da lei, a de cooperativas, independe de autorização, sendo vedada a interferência estatal em seu funcionamento.
- c) Lei complementar estabelecerá o procedimento para desapropriação por necessidade ou utilidade pública, ou por interesse social, mediante justa e prévia indenização em dinheiro, ressalvados os casos previstos na Constituição.
- d) No caso de iminente perigo público, a autoridade competente poderá usar de propriedade particular, assegurada ao proprietário indenização ulterior, se houver dano.
- e) O civilmente identificado não será submetido a identificação criminal, salvo nas hipóteses previstas em lei.

25. Considere o trecho:

A Constituição permite nos tribunais com número superior a _____ julgadores a criação de um órgão especial, com o mínimo de _____ e o máximo de _____ membros, para o exercício das atribuições administrativas e jurisdicionais da competência do tribunal pleno.

As lacunas são preenchidas respectivamente por

- | | | |
|-----------------|-----------------|-----------------|
| a) 30 – 10 – 25 | c) 15 – 10 – 15 | e) 13 – 05 – 10 |
| b) 25 – 11 – 25 | d) 20 – 10 – 20 | |

26. Quanto à sua formação, o ato administrativo pode ser classificado em:

- a) geral e abstrato.
- b) geral, individual e complexo.
- c) simples, complexo e composto.
- d) interno, externo e composto.
- e) geral, individual, externo e interno.

27. Nos contratos administrativos, as cláusulas são

- a) livremente pactuadas pelas partes.
- b) idênticas àquelas que regem os contratos de direito privado.
- c) definidas em lei.
- d) exorbitantes e derogatórias do direito comum.
- e) definidas pelo regulamento da entidade contratante.

28. A relação objetivamente aferida entre o ato ou omissão administrativa e o prejuízo causado a um particular, para fins de determinação da responsabilidade civil da administração, denomina-se:

- | | |
|---------------------------|----------------------------------|
| a) fato jurídico. | d) coisa julgada administrativa. |
| b) fato da administração. | e) nexa causal. |
| c) fato consumado. | |

- 29.** O retorno do servidor público, em disponibilidade, ao exercício do cargo público, recebe o nome de:
- a) readmissão
 - b) aproveitamento
 - c) recondução
 - d) readaptação
 - e) reversão
- 30.** O exame do ato administrativo revela nitidamente a existência de requisitos necessários à sua formação, quais sejam:
- a) imperatividade, discricionariedade e forma.
 - b) competência, finalidade, forma, motivo e objeto.
 - c) vinculação, finalidade, forma e competência.
 - d) auto-executoriedade, forma, motivo e objeto.
 - e) titulação, forma, discricionariedade e competência.
- 31.** Para o cometimento de um ato discricionário, por parte da Administração Pública,
- a) é indispensável que o Direito, nos seus lineamentos gerais, confira tal poder ao administrador.
 - b) não é necessária a autorização legal, pois deriva da vontade do administrador, no uso de prerrogativas específicas.
 - c) é indispensável a autorização do Poder Judiciário.
 - d) é fundamental que a lei, apoiada no Poder Regulamentar concedido ao Executivo, autorize a emissão do ato.
 - e) é indispensável, além de autorização do Judiciário, o aval do Tribunal de Contas da entidade federativa correspondente.
- 32.** São princípios do processo administrativo federal, nos termos do art. 2º da Lei 9.784/99, dentre outros:
- a) segurança jurídica, interesse público e eficiência.
 - b) oficialidade, discricionariedade e presunção de legitimidade.
 - c) motivação, objeto e imperatividade.
 - d) interesse social, finalidade, termo e eficácia.
 - e) formalidade, termo, eficácia e interesse social.
- 33.** A licitação é INEXIGÍVEL em caso de
- a) guerra ou calamidade pública.
 - b) intervenção do Estado no domínio econômico.
 - c) segurança nacional.
 - d) contratação de artistas, desde que consagrados pela opinião pública ou pela crítica.
 - e) realização de serviços de publicidade.
- 34.** Para os fins determinados pela Lei 9.784/99, considera-se “órgão”
- a) a unidade de atuação dotada de personalidade jurídica.
 - b) o servidor ou agente público dotado de poder de decisão.
 - c) a unidade da federação que compõe a Administração direta.
 - d) a unidade de atuação integrante das estruturas da Administração direta e indireta.
 - e) a unidade federativa designada por lei para integrar a Administração Pública.

- 35.** Inexistindo competência legal específica, o processo administrativo, nos termos da Lei 9.784/99, deverá ser iniciado
- a)** perante a autoridade judicial, nos casos em que houver ofensa a interesse coletivo.
 - b)** perante a autoridade de menor grau hierárquico para decidir.
 - c)** junto ao órgão integrante do contencioso administrativo.
 - d)** em ofício detalhado à mais alta autoridade do órgão competente.
 - e)** através de requerimento direcionado à mais alta autoridade da unidade competente.

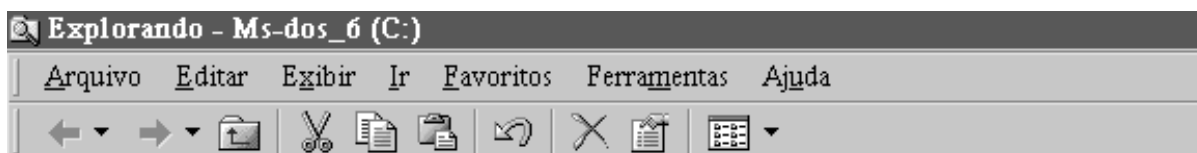
ADMINISTRAÇÃO E GESTÃO PÚBLICA

- 36.** É correto afirmar ser a Administração uma ciência que
- a)** estuda, pesquisa e planeja os sistemas e modelos internos e externos da empresa ou do governo, visando à solução de problemas, levando em consideração fatores de produção, distribuição e consumo de riquezas.
 - b)** trata das atividades econômico-financeiras a curto, médio e longo prazo, registrando resultados através dos sistemas patrimonial, financeiro e orçamentário.
 - c)** se dedica a pesquisas e estudos das características físicas e humanas da terra e dos fenômenos que nela ocorrem.
 - d)** trata do planejamento, projeto, implantação e controle de sistemas produtivos.
 - e)** planeja, organiza, controla, executa e estabelece sistemas integrados, envolvendo pessoas e definindo padrões estratégicos, mensurando desempenhos.
- 37.** De conformidade com a Lei 9.784/99, é correto afirmar:
- a)** A referida lei dispõe sobre o Regime Jurídico dos Servidores Públicos Civis da União.
 - b)** Esta lei estabelece normas básicas sobre o processo administrativo no âmbito da Administração Federal direta e indireta, visando, em especial, à proteção dos direitos dos administradores e ao melhor cumprimento dos fins da Administração.
 - c)** Os preceitos desta lei não se aplicam aos Poderes Legislativo e Judiciário da União no desempenho da função administrativa.
 - d)** No início do processo administrativo, é permitida à Administração a recusa imotivada de recebimento de documentos, devendo o servidor orientar o interessado quanto ao suprimento de eventuais falhas.
 - e)** Um órgão administrativo e seu titular poderão, se houver impedimento legal, delegar parte de sua competência a outros órgãos ou titulares, ainda que estes lhe sejam hierarquicamente subordinados.
- 38.** Nos últimos anos, ocorreu um grande desenvolvimento tanto no campo social como no técnico. Este desenvolvimento forçou o aparecimento da *qualidade assegurada*, levando a uma compreensão bastante diferente sobre o significado da palavra qualidade. Dentro de um enfoque administrativo, *qualidade* significa:
- a)** algo abstrato, sem vida própria, indefinido.
 - b)** classes, estilos ou categorias de produtos ou serviços.
 - c)** aspecto subjetivo das pessoas.
 - d)** condição necessária de aptidão para o fim a que se destina.
 - e)** capacidade que um produto ou serviço possui de ser efetivado, conforme seu projeto.

39. De acordo com a Lei de Responsabilidade Fiscal, é correto afirmar:
- a) Atualmente, os chefes do poder executivo exercem o cargo público no desempenho de mandato eletivo, como administradores privados, dispondo do erário sem regatear favores, abusando do direito de mandar.
 - b) A responsabilidade na gestão fiscal pressupõe a ação planejada e transparente, em que se previnem riscos e se corrigem desvios capazes de afetar o equilíbrio das contas públicas.
 - c) A relação receita e despesa não se estabiliza, em face do governo reconhecer ser inviável o equilíbrio das contas públicas e a reversão dos déficits operacionais e o estado continuar gastando mais do que arrecada.
 - d) As contas apresentadas pelo chefe do poder executivo ficarão indisponíveis, durante todo o exercício, no respectivo poder judiciário e no órgão técnico responsável pela sua elaboração para a consulta e apreciação pelos cidadãos e instituições da sociedade.
 - e) A Lei de Responsabilidade Fiscal foi aprovada com o fim de proibir a livre manifestação de pensamento dos eleitos, violando garantias e direitos individuais do cidadão.
40. Os orçamentos são instrumentos usados para o controle e a coordenação das atividades de uma organização. Seus principais centros de responsabilidade são
- a) receita, despesas, lucro e investimento.
 - b) custos, volume de vendas, despesas e recursos.
 - c) liquidez, endividamento, cobertura, rentabilidade.
 - d) balanço, demonstrativo de resultados, fluxo de caixa, aplicação.
 - e) insumos, capital, instalações e lucros.

III – NOÇÕES DE INFORMÁTICA

41. Sobre o Windows 98, considere o menu principal do programa Windows Explorer, conforme a figura a seguir.



Para *criar uma pasta, criar um atalho, localizar um arquivo e copiar um arquivo*, utilizam-se, respectivamente, as seguintes opções do menu principal:

- a) Editar, Editar, Ir, Arquivo
 - b) Ferramentas, Arquivo, Exibir, Editar
 - c) Arquivo, Editar, Ferramentas, Editar
 - d) Arquivo, Arquivo, Ferramentas, Editar
 - e) Editar, Exibir, Ferramentas, Arquivo
42. Considerando o programa Windows Explorer do Windows 98, para mover um arquivo de uma pasta origem para uma pasta destino, devem-se realizar os seguintes passos:
- a) selecionar o arquivo na pasta origem; pressionar, simultaneamente, as teclas CTRL e X; selecionar a pasta destino; pressionar, simultaneamente as teclas CTRL e V.
 - b) selecionar o arquivo na pasta origem; pressionar, simultaneamente, as teclas CTRL e C; selecionar a pasta destino; pressionar, simultaneamente, as teclas CTRL e V.
 - c) selecionar o arquivo na pasta origem; pressionar, simultaneamente, as teclas CTRL e A; selecionar a pasta destino; pressionar, simultaneamente, as teclas CTRL e V.
 - d) selecionar o arquivo na pasta origem; acionar a opção MOVER do menu Arquivo; selecionar a pasta destino; teclar ENTER.
 - e) selecionar o arquivo na pasta origem, acionar a opção RECORTAR do menu Arquivo; selecionar a pasta destino; pressionar, simultaneamente, as teclas CTRL e V.

43. Considere a barra de endereços do programa Internet Explorer, versão 5.0, conforme a figura a seguir:



Para acessar qualquer recurso na Web, deve-se fornecer o endereço deste recurso. Este endereço é denominado URL (Uniform Resource Locator) e deve ser digitado no campo Endereço da figura acima. Sobre URL, é FALSO afirmar:

- a) Uma URL classificada como absoluta é composta pelos elementos: protocolo de acesso, servidor onde está localizado o recurso, caminho de diretórios onde está armazenado o recurso e arquivo (protocolo://servidor/caminho/arquivo).
 - b) Uma URL classificada como relativa pode omitir o protocolo e o servidor.
 - c) A URL "http://local.com/pasta1/teste.html" é uma URL absoluta.
 - d) Uma URL classificada como absoluta não pode omitir o nome do servidor.
 - e) A URL "www.servidor.com.br" é uma URL absoluta.
44. Considere o menu principal do programa Internet Explorer, versão 5.0, conforme a figura apresentada na questão anterior.

Para *abrir uma nova janela, aumentar o tamanho do texto da página apresentada, alterar a página inicial e voltar para a página anterior visitada*, utilizam-se, respectivamente, as seguintes opções do menu principal:

- a) Editar, Ferramentas, Exibir, Editar
 - b) Arquivo, Exibir, Ferramentas, Exibir
 - c) Ferramentas, Arquivo, Exibir, Editar
 - d) Arquivo, Exibir, Editar, Arquivo
 - e) Ferramentas, Editar, Exibir, Editar
45. O código abaixo representa uma função do Excel que pode ser inserida como conteúdo de uma célula da planilha:

=SE(E(B3 <= 10;B3 >= 7);"aprovado";"reprovado")

Esta função é do tipo:

- a) Texto
- b) Procura e referência
- c) Lógica
- d) Informações
- e) Estatística

ATENÇÃO: Nas questões a seguir (46 a 50), considere que todos os programas mencionados estão em configuração-padrão, em português, e que o mouse está configurado para pessoas destros. Assim, a menos que seja explicitamente informado o contrário, expressões como clicar, clique simples e clique duplo referem-se a cliques com o botão esquerdo do mouse. Considere também que não há restrições de proteção em relação aos programas, arquivos e diretórios utilizados.

46. O texto que segue refere-se a um arquivo aberto no aplicativo Excel 2000, cujas barras de menu padrão e de menu formatação são apresentadas na figura abaixo.

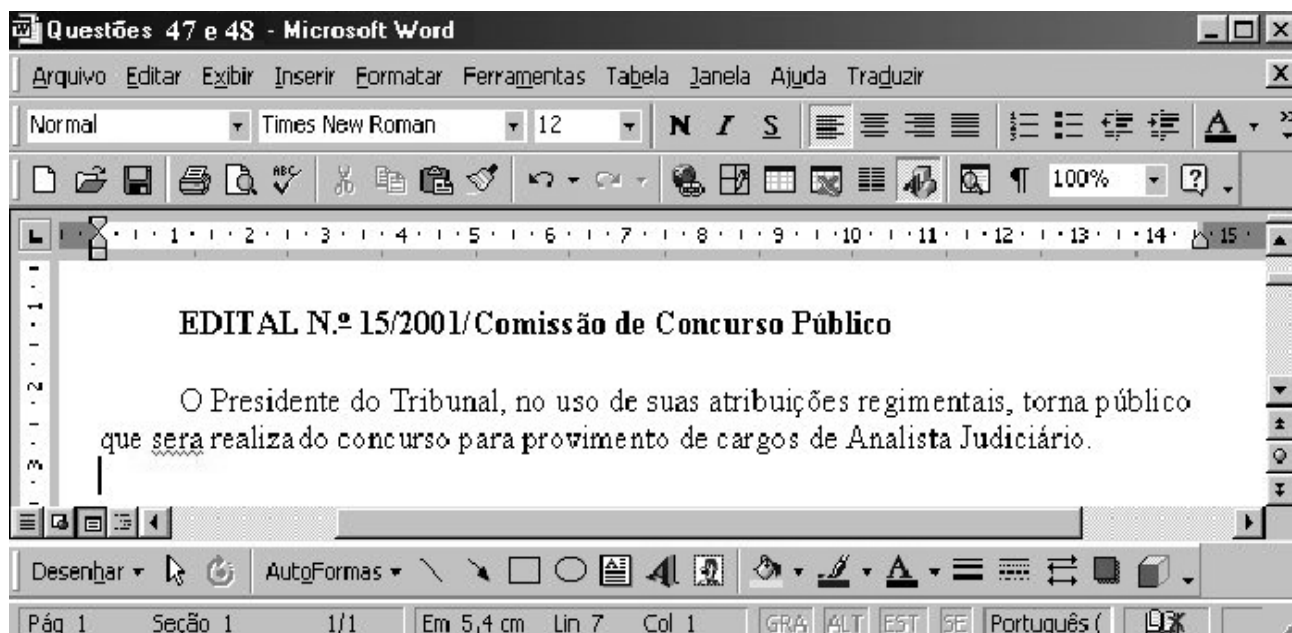


“Pode-se definir a área de impressão da planilha através do menu _____. O menu _____ oferece facilidades para construir cabeçalhos e rodapés. Ocultar colunas e linhas é possível através do menu _____. Gráficos podem ser criados a partir do menu _____.”

As lacunas são preenchidas, respectivamente, por






- | | |
|--|---|
| a) Arquivo, Exibir, Formatar, Inserir | d) Exibir, Ferramentas, Editar, Inserir |
| b) Formatar, Inserir, Dados, Exibir | e) Dados, Exibir, Editar, Formatar |
| c) Arquivo, Formatar, Inserir, Ferramentas | |

ATENÇÃO: A figura a seguir, que serve de base para as questões 47 e 48, ilustra uma tela de trabalho do Word 2000, mostrando um trecho de um documento, ainda incompleto, no qual um Técnico Judiciário digita os termos de um edital para concurso público.



47. Com relação à figura e ao Word 2000, julgue as afirmativas abaixo, assinalando-as com V (Verdadeiro) ou F (Falso):




- () O ato de clicar na posição imediatamente à direita da palavra “uso” e, em seguida pressionar a tecla *Backspace*, mantendo-a pressionada, fará que apenas a letra “o”, ao final dessa palavra, seja apagada. Essa característica do Word evita que o usuário apague acidentalmente todo o trabalho digitado.
- () O ato de aplicar um duplo clique entre as letras “e” e “n” da palavra “Presidente” fará que a mesma seja selecionada, e o ato subsequente de clicar entre as letras “n” e “o” da palavra “no” fará que o ponto de inserção seja posicionado entre essas letras, desfazendo a seleção da palavra “Presidente”.
- () O parágrafo em que se encontra a palavra “regimentais” estará alinhado à esquerda ao final da seguinte sequência de ações: selecionar a palavra

“regimentais”; clicar, sucessivamente, nos botões , , ,  e, de novo, em .

A sequência correta de opções é:

- | | | | | |
|----------|----------|----------|----------|----------|
| a) F-V-V | b) V-F-F | c) F-V-F | d) V-V-V | e) V-F-V |
|----------|----------|----------|----------|----------|

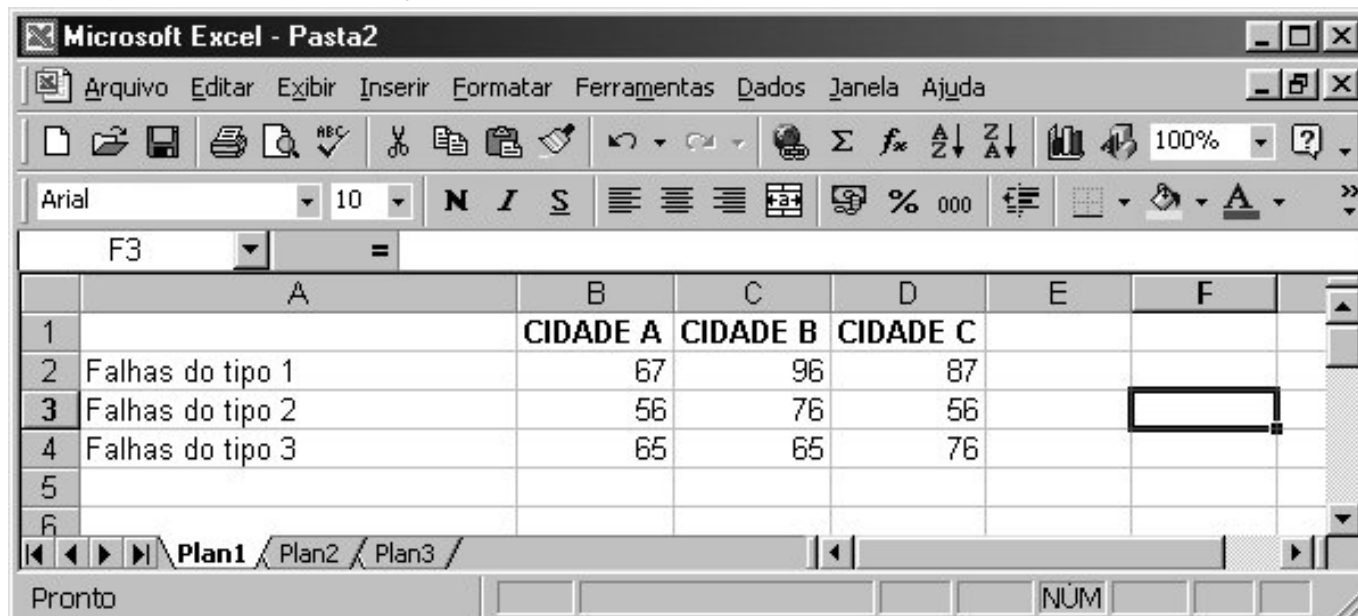
48. Com relação à figura, ao Word 2000 e ao Excel 2000, julgue as afirmativas abaixo, assinalando-as com V (Verdadeiro) ou F (Falso):

- () Supondo o Word e o Excel abertos simultaneamente, para copiar um gráfico de barras criado no Excel 2000 para algum ponto do documento mostrado na figura, é correto executar o seguinte procedimento: no Excel, clicar sobre o gráfico desejado; pressionar a tecla *Ctrl* e, mantendo-a pressionada, acionar a tecla *V*; em seguida, no Word, clicar no ponto onde se deseja que o gráfico seja inserido.
- () O ato de selecionar a palavra “atribuições” e clicar em  fará que seja aplicada a formatação negrito a essa palavra, e o ato subsequente de clicar em  fará que a palavra seja formatada em itálico, removendo a formatação negrito.
- () Para selecionar a palavra “suas”, é correto executar o seguinte procedimento: clicar imediatamente à esquerda da referida palavra, antes da letra “s”; pressionar simultaneamente as teclas *Ctrl* e *Shift* e, mantendo ambas pressionadas, teclar .

A sequência correta de opções é:


- a) F-V-F b) F-F-V c) F-F-F d) V-V-F e) F-V-V




49. Um Técnico Judiciário realizou, durante um teste pré-eleitoral, o levantamento de falhas em urnas eletrônicas, classificando-as em três tipos, em três cidades de um Estado. Para isso, ele consultou os registros apropriados, encontrando os dados desejados, e os tabulou em uma planilha do Excel 2000, mostrada na figura a seguir, para manipulação futura.



	A	B	C	D	E	F
1		CIDADE A	CIDADE B	CIDADE C		
2	Falhas do tipo 1	67	96	87		
3	Falhas do tipo 2	56	76	56		
4	Falhas do tipo 3	65	65	76		
5						
6						

Com relação à situação hipotética descrita e ao Excel 2000, julgue as afirmativas abaixo, assinalando-as com V (Verdadeiro) ou F (Falso):

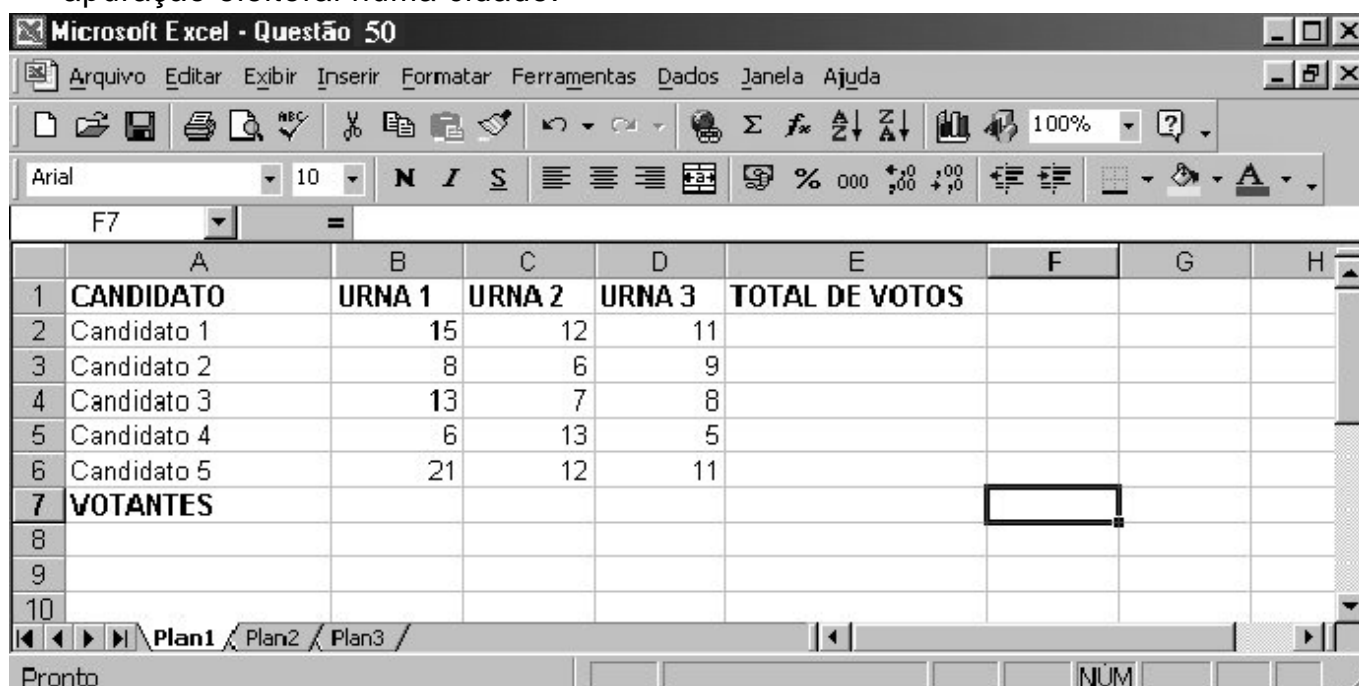
- () A seguinte sequência de ações descreve um processo completo que levará o técnico judiciário à criação de um gráfico de barras para visualizar graficamente a incidência de cada tipo de falha em urnas, nas diferentes cidades: selecionar todas as células de A1 até D4; em seguida clicar em .

- () Para calcular a porcentagem de falhas do tipo 1 na cidade C, em relação ao total de falhas do mesmo tipo nas três cidades, e colocar o resultado na célula E2, seria correto o técnico judiciário executar o seguinte procedimento: clicar na célula E2; em seguida, digitar $=C2/(B2+D2)$ e teclar *Enter*; clicar novamente em E2 e, finalmente, clicar em .
- () Os números 160 e 168 aparecerão nas células E3 e E4, respectivamente, se o analista realizar a seguinte seqüência de ações: clicar na célula E3, digitar $=B3+C3+D3/2$ e teclar *Enter*; em seguida, clicar novamente na célula E3, clicar em , clicar na célula E4 e, finalmente, clicar em .

A seqüência correta de opções é


- a) F-V-V b) V-F-F c) F-V-F d) V-V-F e) V-F-V

50. A figura a seguir apresenta um trecho da janela do programa Excel, versão 2000, em sua configuração-padrão, obtida durante a edição de uma planilha com a apuração eleitoral numa cidade.



	A	B	C	D	E	F	G	H
1	CANDIDATO	URNA 1	URNA 2	URNA 3	TOTAL DE VOTOS			
2	Candidato 1	15	12	11				
3	Candidato 2	8	6	9				
4	Candidato 3	13	7	8				
5	Candidato 4	6	13	5				
6	Candidato 5	21	12	11				
7	VOTANTES							
8								
9								
10								

Com relação à figura, julgue as afirmativas, assinalando-as com V (Verdadeiro) ou F (Falso):

- () A seguinte seqüência de ações resultará nos totais de votos de todos os candidatos colocados nas células de E2 até E6: posicionar o ponteiro do *mouse* na célula E2; pressionar o botão esquerdo do *mouse*, mantendo-o pressionado; com o botão esquerdo pressionado, mover o ponteiro do *mouse* até a célula E6; liberar o botão esquerdo; digitar a fórmula $=SOMA(B2:D2)$ e pressionar a tecla *Enter*.
- () Quando se copia uma área contendo uma coluna com 4 células para uma área contendo uma coluna com apenas 3 células selecionadas, as três primeiras células são copiadas, mas a última célula é perdida.
- () Após selecionar as células C2, C3, C4, C5 e C6 e clicar no botão , na célula C2 aparecerá o número 6.

A seqüência correta de opções é

- a) F-V-V b) V-F-F c) F-V-F d) F-F-V e) V-F-V

IV – MATEMÁTICA

51. A expressão numérica $\frac{\frac{1}{5} + \frac{1}{4}}{\frac{2}{3} + 0,5 - 0,6666...}$ tem como valor
- a) $\frac{1}{3}$ b) $\frac{1}{5}$ c) 0,3 d) 0,9 e) 1
52. Uma empresa prestadora de serviços possui 3 rolos de fio de telefone com 120, 168 e 408 metros, respectivamente, e deseja cortá-los em partes iguais para execução de suas tarefas. O número total de partes iguais é de
- a) 20 b) 23 c) 29 d) 32 e) 37
53. Em uma seção eleitoral existem 500 eleitores. Se 26% não votaram na última eleição, o número de eleitores que compareceu à seção foi de
- a) 130 b) 230 c) 300 d) 370 e) 420
54. O Sr. Haroldo, conhecido pelo seu bom coração, resolveu distribuir com os seus netos, no dia das crianças, uma certa quantia em dinheiro. Pensou ele: “Vou tomar o número 6.090 e fatorá-lo. A soma dos números primos dessa fatoração será a quantia a ser distribuída”. O Sr. Haroldo distribuiu
- a) R\$ 25,00 b) R\$ 29,00 c) R\$ 32,00 d) R\$ 46,00 e) R\$ 50,00
55. Deseja-se distribuir 30 chocolates entre 3 crianças, de modo que a 2ª criança receba 5 chocolates a mais que a 1ª e a 3ª receba 7 chocolates a mais que a 1ª criança. O número de chocolates recebido pela 3ª criança foi de
- a) 6 b) 8 c) 9 d) 11 e) 13
56. Socorro, Maria, Uyguaciara e Risalva resolveram programar férias para janeiro de 2002. Para isto, abriram uma caderneta de poupança, na qual Socorro depositou R\$ 625,00, Maria depositou o dobro de Socorro, Uyguaciara o triplo de Maria e Risalva o quádruplo de Socorro. O total depositado pelas amigas na caderneta de poupança foi de
- a) R\$ 8.125,00 c) R\$ 9.250,00 e) R\$ 9.715,00
b) R\$ 8.315,00 d) R\$ 9.425,00
57. Fernando percorreu 118,3 Km em seu automóvel com 13 litros de combustível. Se o litro do combustível custa R\$ 1,85, o valor pago por Fernando para percorrer 318,5 Km foi de
- a) R\$ 52,70 b) R\$ 60,90 c) R\$ 64,75 d) R\$ 66,35 e) R\$ 68,90

- 58.** Paulo, com sua capacidade de negociação, emprestou *R\$ 1.500,00* a Bosco, recebendo, após 60 dias, *R\$ 510,00* de rendimento. A taxa de juros mensal paga por Bosco foi de
- a)** 15% **b)** 17% **c)** 20% **d)** 22% **e)** 25%
- 59.** Estima-se que Osama Bin Laden tenha gasto *U\$ 1,000,000* no ataque aos Estados Unidos. Considerando o dólar a *R\$ 2,72*, o número de cestas básicas que este dinheiro poderia comprar, se cada cesta básica custa *R\$ 13,60*, é de
- a)** 100.000 **b)** 150.000 **c)** 200.000 **d)** 250.000 **e)** 300.000
- 60.** No PSS-2001 inscreveram-se 34.714 candidatos que concorreram a 4.667 vagas oferecidas pela UFPB para os diversos cursos. Se não existiram vagas remanescentes, a porcentagem aproximada de candidatos que ingressaram na UFPB é
- a)** 11,20% **b)** 13,44% **c)** 14,30% **d)** 15% **e)** 15,60%